

平成 29 年度 併設校 AO 入試 総合考査 問題用紙【児童スポーツ教育学部】  
試験時間：90分

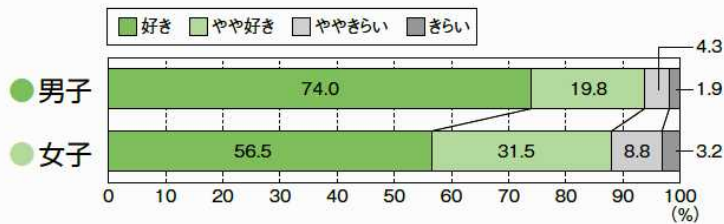
資料は、小学生を対象に新体力テストの合計点と様々な要因との関連性を示したものである。  
これらの資料をもとに以下の問いに答えなさい。

問1. 資料①～③から、どのようなことが読み取れるか。読み取った内容について詳しく説明しなさい。

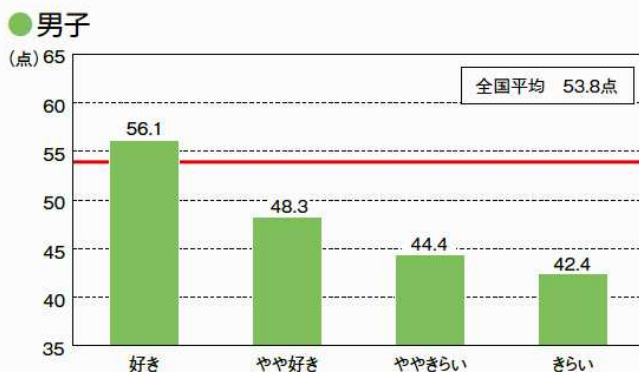
問2. 子どもの体力・運動能力向上のためには、具体的にどのような取り組みが必要だと考えられるか、  
またその理由について資料①～③をもとに述べなさい。

<資料① 運動、スポーツに対する意識と体力との関連>

[質問1] 運動（体を動かす遊びをふくむ）やスポーツをすることは好きですか。



[質問1] と体力合計点との関連



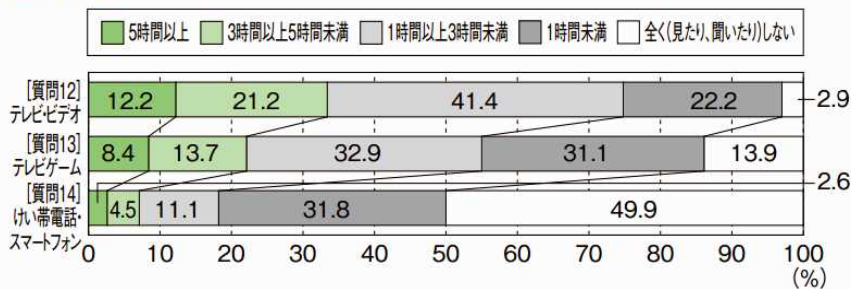
<資料② テレビ、ゲーム、携帯電話等の利用と体力との関連>

【質問12】 ふだんの平日（月～金曜日）について聞きます。1日にどれくらいの時間、テレビやビデオ・DVDを見たり、聞いたりしますか。（テレビゲームをする時間は除きます）

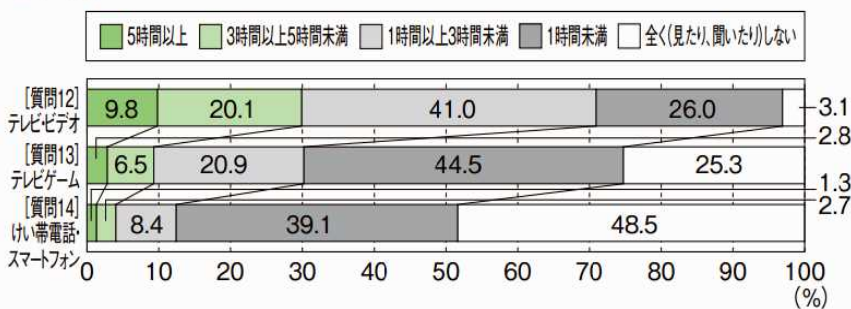
【質問13】 ふだんの平日（月～金曜日）について聞きます。1日にどれくらいの時間、テレビゲーム（コンピューターゲーム、けい帯式のゲーム、けい帯電話やスマートフォンを使ったゲームをふくむ）をしますか。

【質問14】 ふだんの平日（月～金曜日）について聞きます。1日にどれくらいの時間、けい帯電話やスマートフォンで通話やメール、インターネットをしますか。（けい帯電話やスマートフォンを使ってゲームをする時間は除きます）

● 男子

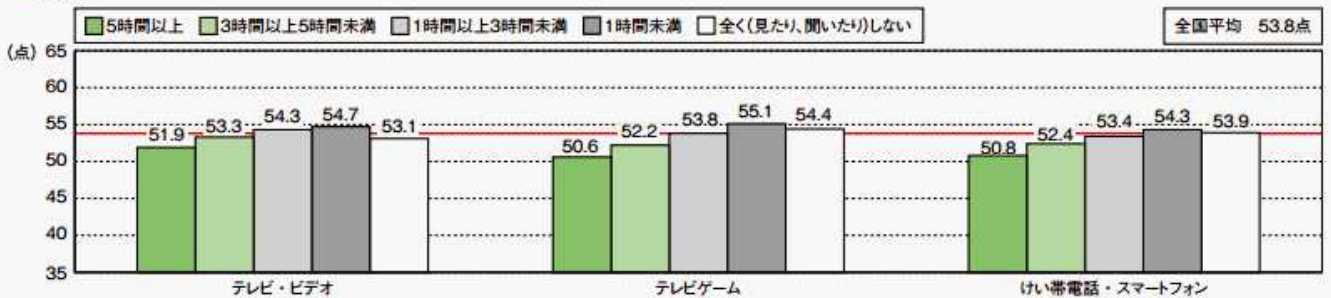


● 女子

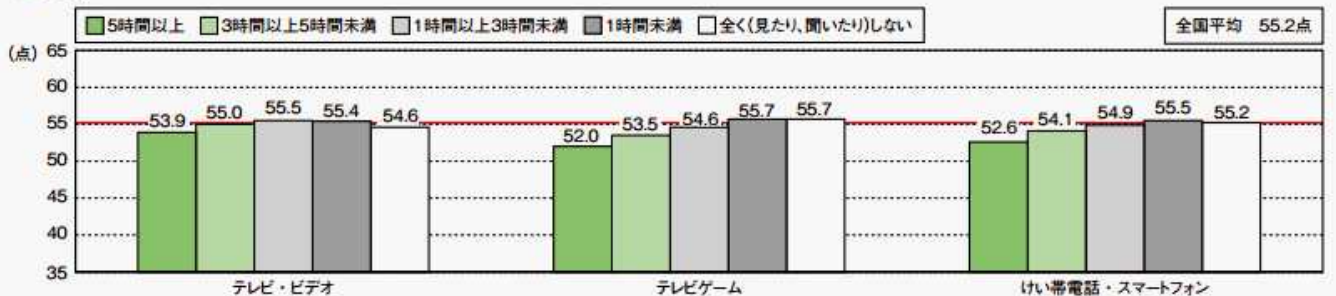


【質問12・13・14】と体力合計点との関連

● 男子

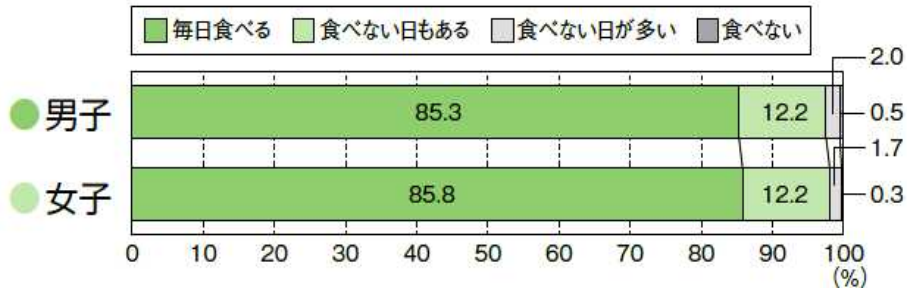


● 女子



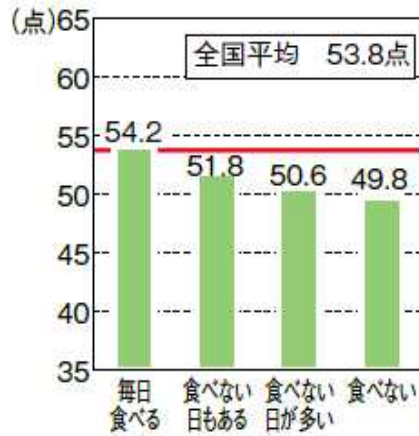
<資料③ 朝食の摂取状況と体力との関連>

[質問8] 朝食は毎日食べますか。(学校が休みの日もふくめます)

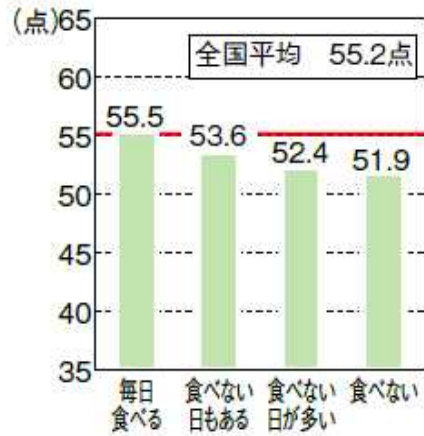


[質問8] と体力合計点との関連

● 男子



● 女子



出典：平成 27 年度全国体力・運動能力、運動習慣等調査 集計結果、文部科学省