

平成 31 年度 学科 AO 入試 総合考査 問題用紙【健康学科】

試験時間：60分

.....  
現在、日本では7人に1人の子どもが「相対的貧困※」状態に置かれている。

資料は、平成 29 年度に東京都が実施した「子供の生活実態調査」の結果であるが、これを参考にして以下の問いに答えなさい。

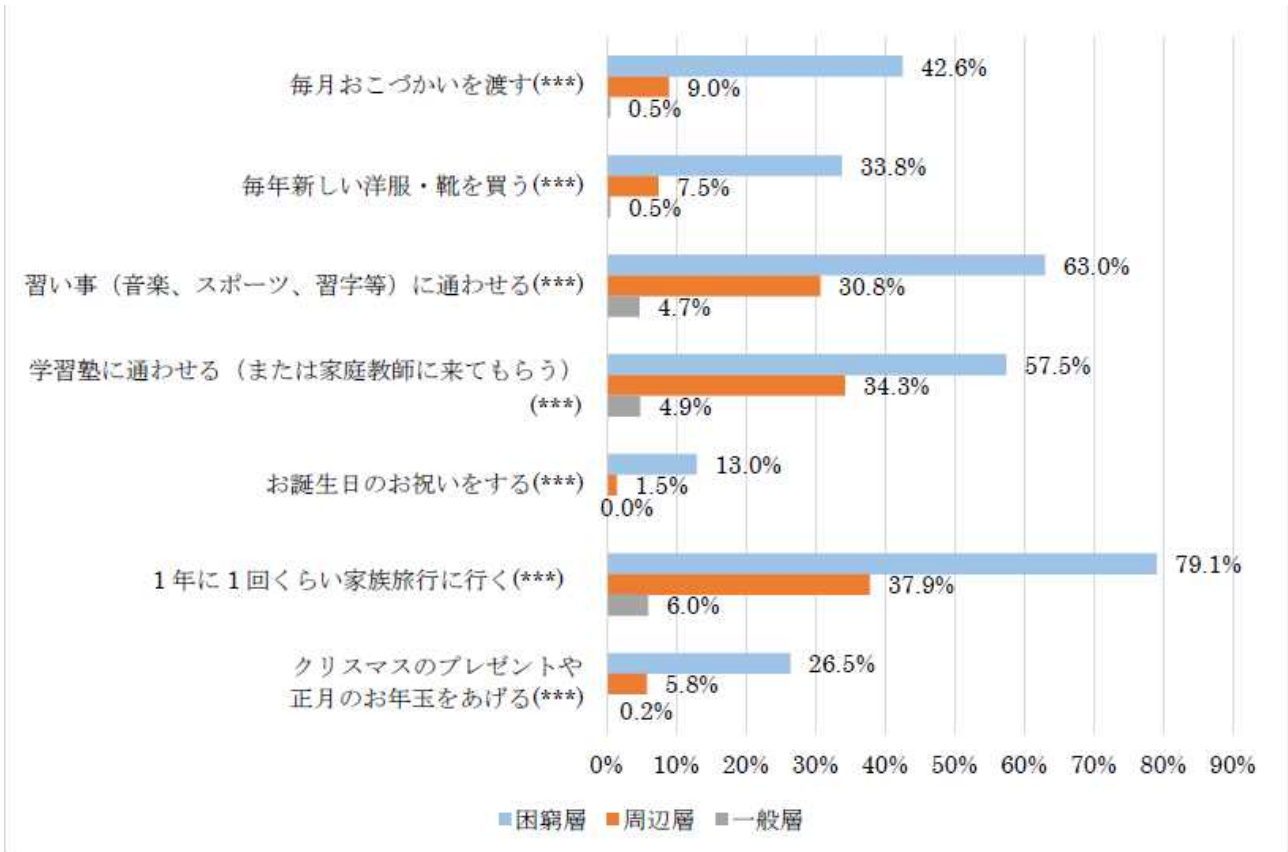
(資料①、資料⑤の(\*\*\*)、(\*\*)、(\*)、(X)は、問題に関係ありません。)

※「相対的貧困」とは、その人が暮らしている国や地域社会の平均的な生活水準と比較して、所得が著しく低い状態をいう。
--

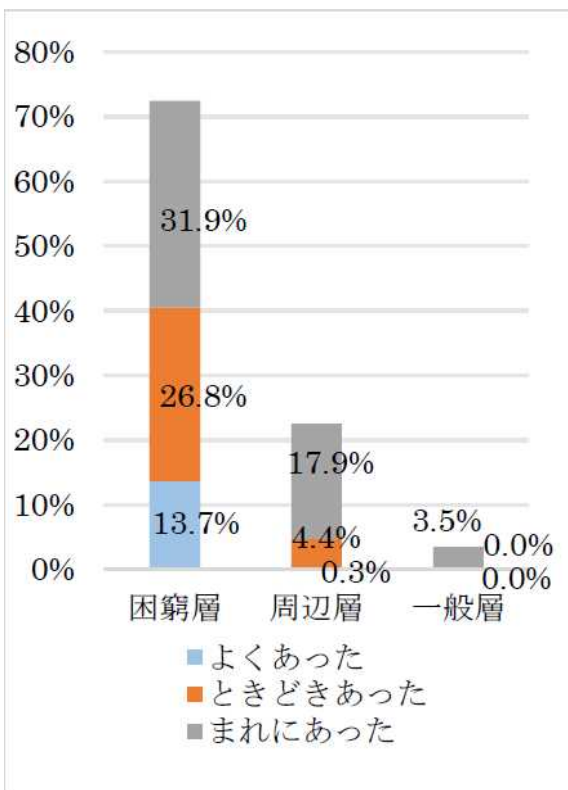
問1. 子どもの貧困は、子どもの生活や成長にどのような影響を与えているかを記載しなさい。

問2. 子どもの貧困対策として既に取り組みが始まっている内容を挙げ、今後必要とされる具体的な対策についても考えて記載しなさい。

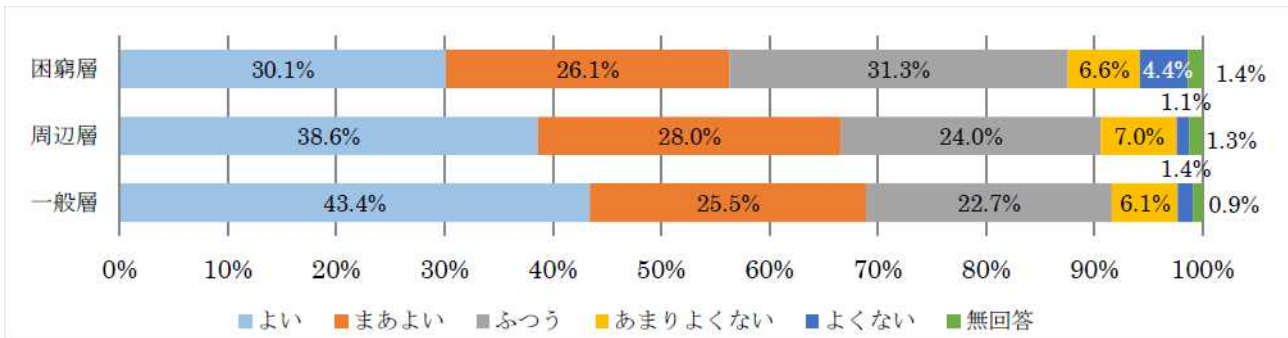
<資料①>「経済的にできない」子供のための支出(中学2年生):生活困難度別



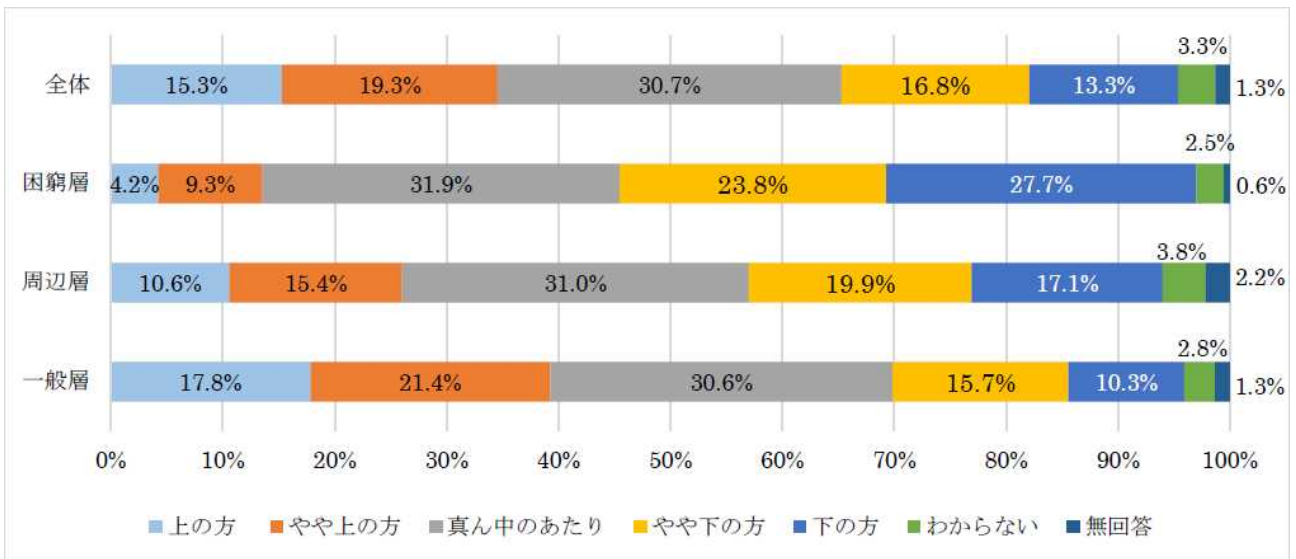
<資料②>食料の困窮の経験(中学2年生):生活困難度別



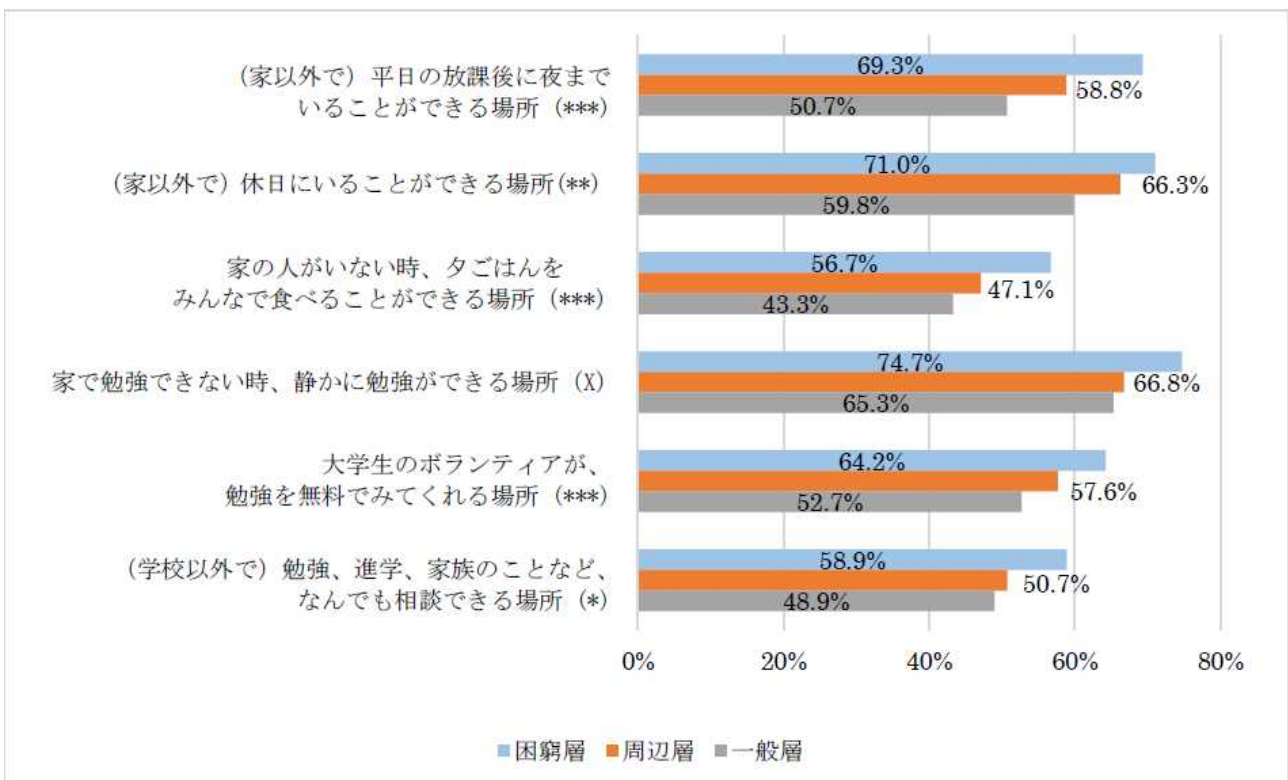
<資料③> 自分の健康状態（中学2年生）：生活困難度別



<資料④> 成績の主観的評価（中学2年生）：全体、生活困難度別



<資料⑤> 子供本人のサービス利用意向（中学2年生）：生活困難度別



出典：東京都子供の生活実態調査報告書【小中高高校生等調査】、  
東京都福祉保健局、平成29年3月