

.....  
図1は平成22年の我が国における平均寿命と健康寿命を男女別に表したものの、図2、3は両者の推移を表したものである。図を参考にしながら以下の問いに答えなさい。

- 問1. 図1における平均寿命と健康寿命の差を、図2、3を参考に算出なさい。
- 問2. 平均寿命と健康寿命の差は、日常生活に制限のある「健康でない期間」を意味します。図2、3の平成13年と平成22年を比較した際、どのような傾向が見られますか。「平均寿命」、「健康寿命」、「平均寿命と健康寿命との差」という言葉を使って説明なさい。
- 問3. 問2で述べた内容によってどのような問題が発生しうるか、またこれを改善するためにどのような取り組みが必要か(柔道整復師としてどのようなことができるか)、あなたの考えを述べなさい。

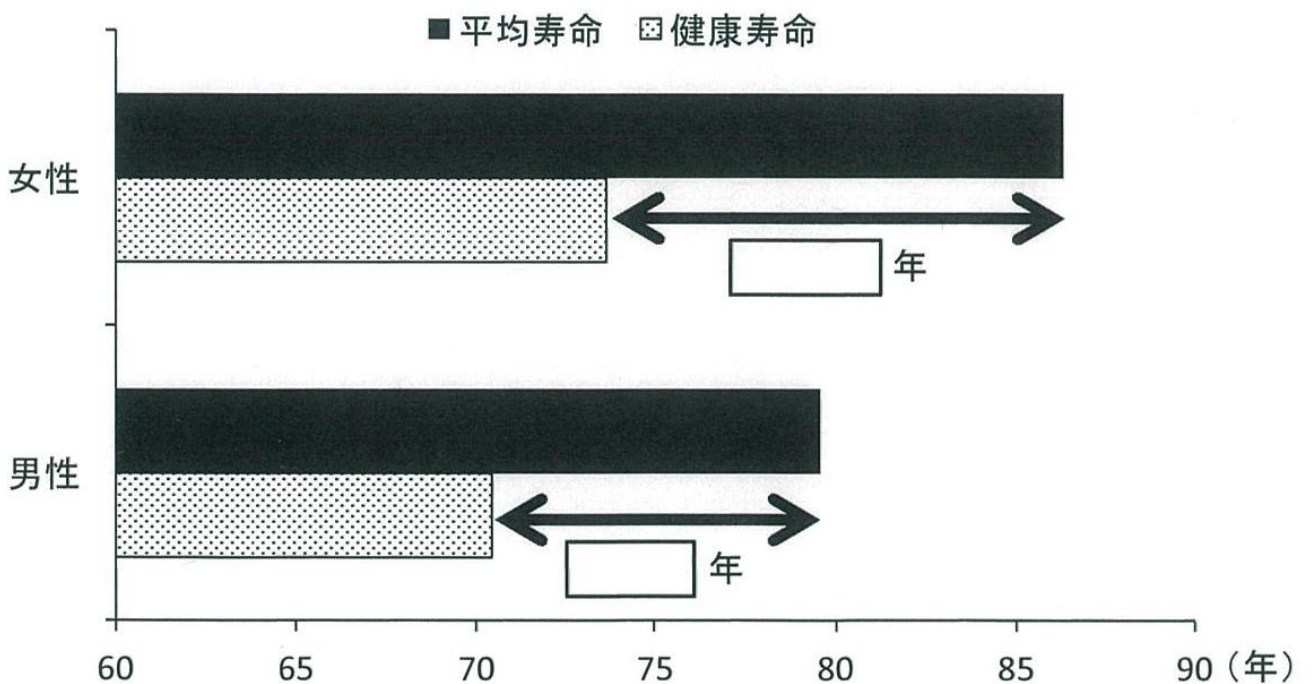


図1 平均寿命と健康寿命の差(平成22年)

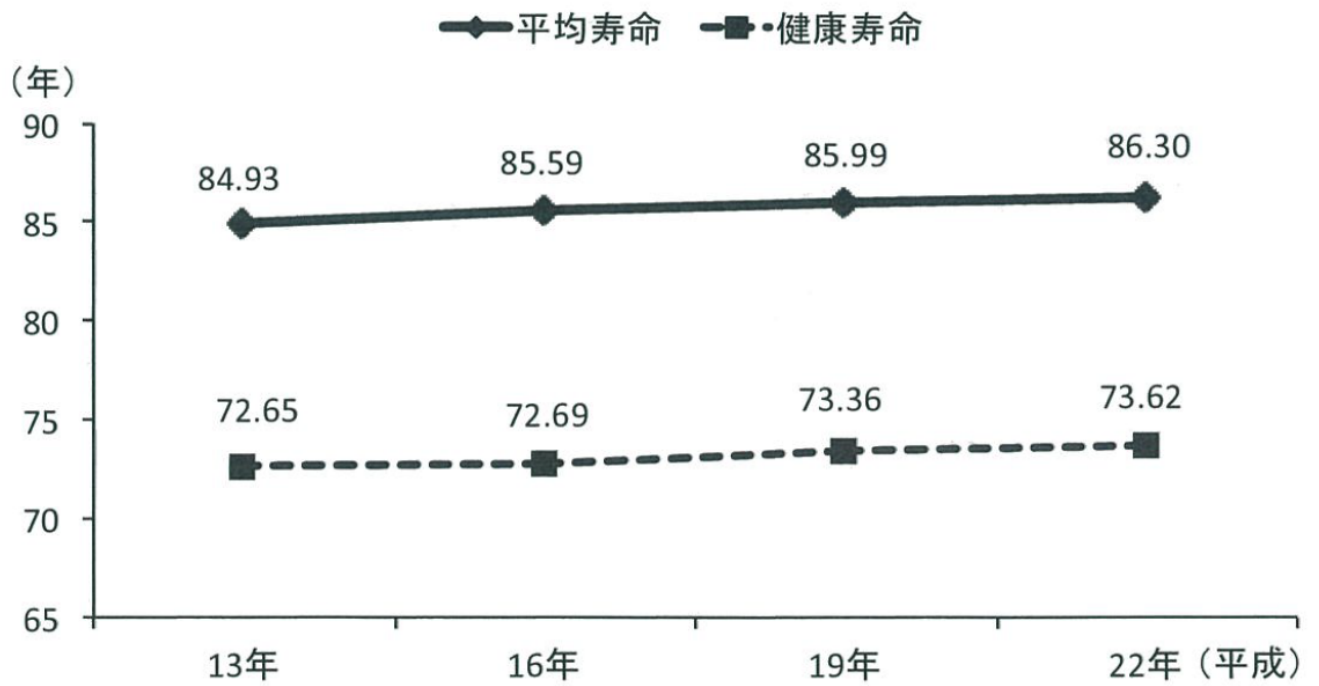


図2 平均寿命と健康寿命の推移(女性)

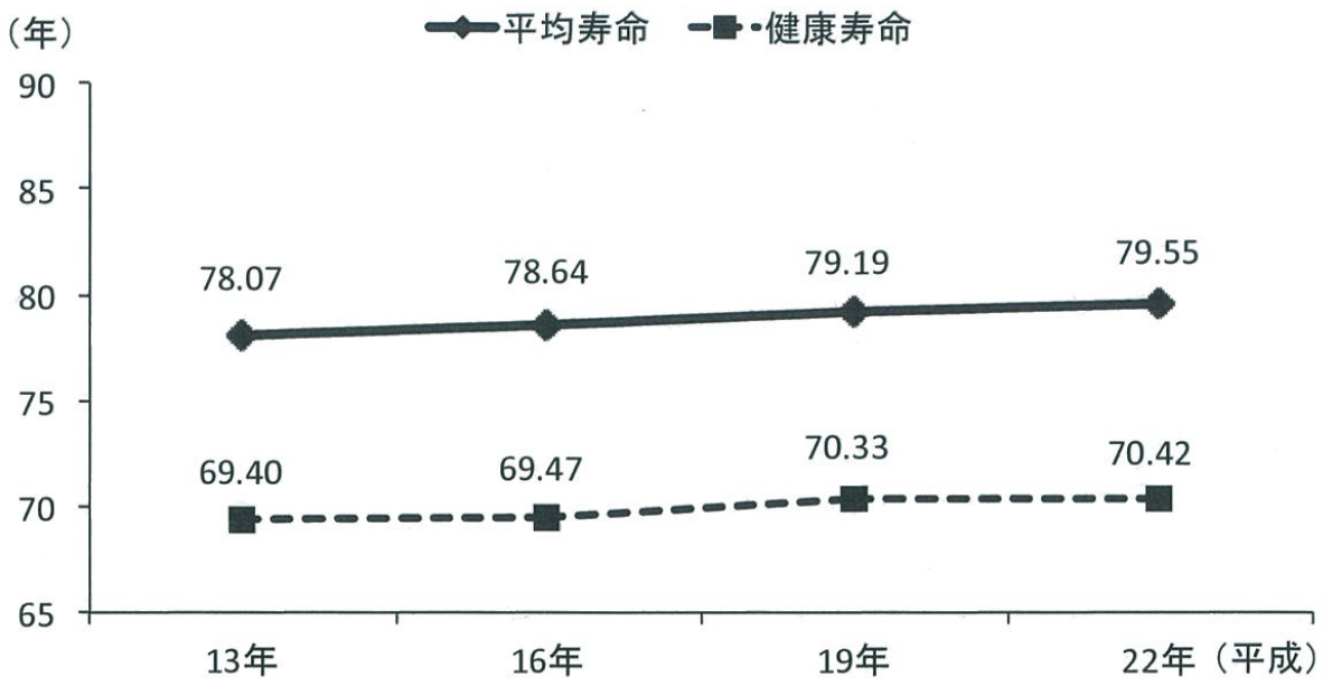


図3 平均寿命と健康寿命の推移(男性)